

## 达标测试卷

题号	一	二	三	四	五	总分
得分						

## 一、填一填。(18分)

- 早上起来,我们面向太阳,前面是(东)面,后面是(西)面,左面是(北)面,右面是(南)面;下午,当你面向太阳时,你的前面是(西)面,后面是(东)面,左面是(南)面,右面是(北)面。
- 地图通常是按上(北)、下(南)、左(西)、右(东)绘制的。
- 若小丽站在小芳的东面,同时又站在小明的西面,则小芳站在小明的(西)面,小明站在小芳的(东)面。
- 当你面向北极星时,你的前面是(北)面,后面是(南)面,左面是(西)面,右面是(东)面。

## 二、判断。(对的画“√”,错的画“×”)(8分)

- 风从北方吹来,彩旗飘向北方。(×)
- 指南针是我国古代的四大发明之一。(√)
- 野外迷了路,可以看大树,树叶茂盛的一面是南面。(√)
- 明明家在电影院东面100米,王雪家在电影院西面50米,明明家与王雪家相距50米。(×)

## 三、选择。(将正确答案的序号填在括号里)(6分)

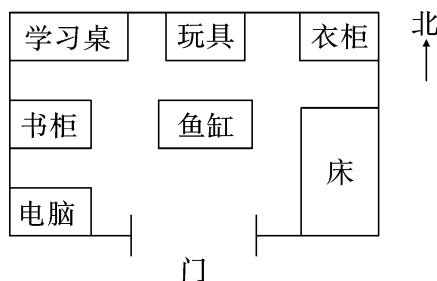
- 晴朗的白天到郊外去旅游,(B)能帮你辨别方向。  
A. 月亮                      B. 太阳                      C. 小草
- 晴朗的夜晚,我们用(C)来辨别方向。  
A. 月亮                      B. 太阳                      C. 北极星
- 树的年轮较密的地方向着(B)面。  
A. 东                          B. 北                          C. 西

4. 无论把指南针的罗盘怎样转动,静止后,指针总是一头指向北面,另一头指向( **A** )面。
- A. 南                      B. 东                      C. 西
5. 西南方在( **C** )之间。
- A. 南方和北方          B. 东方和西方          C. 西方和南方
6. 东南方与西南方之间的方向是( **A** )方。
- A. 南                      B. 西                      C. 东

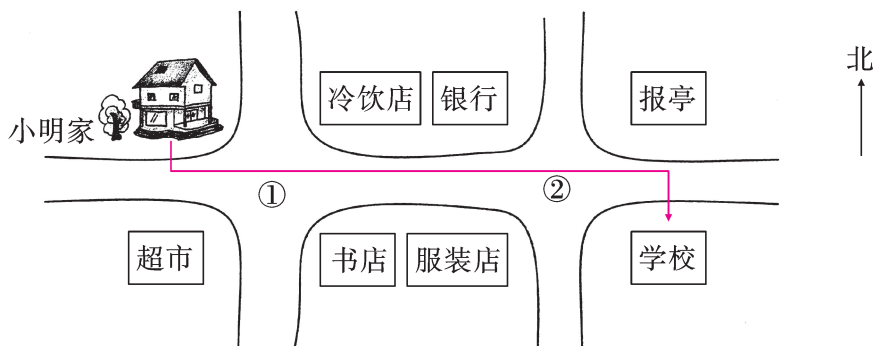
#### 四、完成下面各题。(共 41 分)

##### 1. 看图填一填。(7 分)

- (1)小芳卧室的门朝向( **南** )面。
- (2)学习桌在卧室门的( **西北** )角,衣柜在卧室门的( **东北** )角。
- (3)书柜在电脑的( **北** )面,在学习桌的( **南** )面。
- (4)玩具在学习桌的( **东** )面,在鱼缸的( **北** )面。



##### 2. 看图说一说。(10 分)

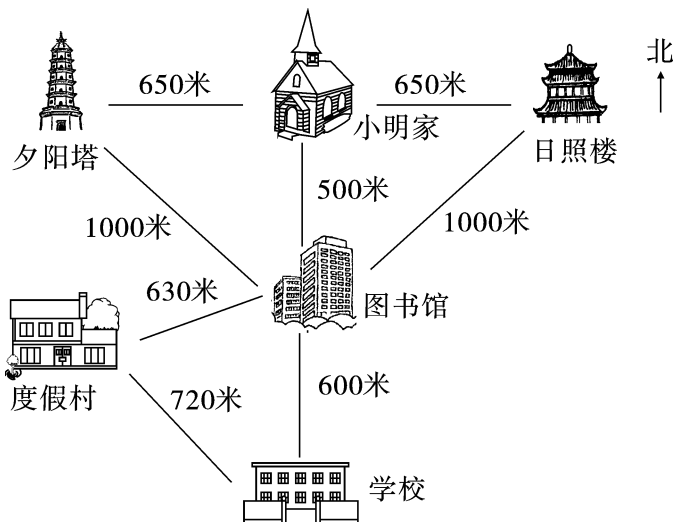


- (1)银行在第②个十字路口的( **西北** )角,第②个十字路口的东南角是( **学校** )。
- (2)书店在第①个十字路口的( **东南** )角,超市在第①个十字路口的( **西南** )角。
- (3)冷饮店在小明家的( **东** )面,超市在小明家的( **南** )面。
- (4)在图上标出小明上学的路线。
- (5)你还能提出什么问题? 自己提一提并解答。

**【答案】**答案不唯一,如:报亭在服装店的什么方向?

答:报亭在服装店的东北方向。

3. 看路线图,填一填,写一写。(12分)



(1) 学校到日照楼的路线:先向( 北 )面走( 600 )米到图书馆,再向( 东北 )方向走( 1000 )米到日照楼。(4分)

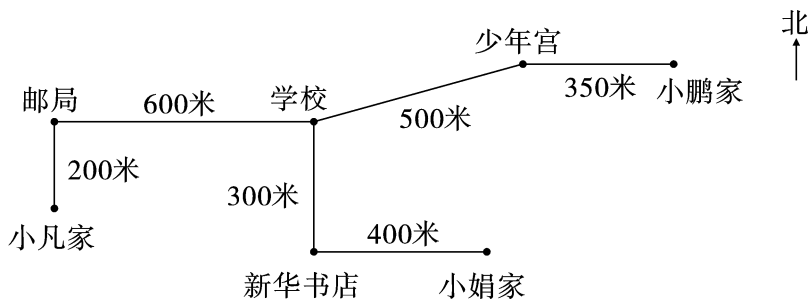
(2) 小明家到度假村的路线:先向( 南 )面走( 500 )米到图书馆,再向( 西南 )方向走( 630 )米到度假村。(4分)

(3) 夕阳塔在图书馆的( 西北 )方向,学校在度假村的( 东南 )方向。  
(2分)

(4) 小明想从夕阳塔去度假村,请写出他的行走路线。(2分)

**【答案】**先向东南方向走 1000 米到图书馆,再向西南方向走 630 米到度假村。

4. 五一期间,小凡和小娟约好去小鹏家。(12分)



(1) 请写出他们俩分别从家出发去小鹏家的路线。

**【答案】**小凡从家出发,先向北走 200 米到邮局,再向东走 600 米到学校,再向东北走 500 米到少年宫,最后向东走 350 米到小鹏家。

小娟从家出发,先向西走 400 米到新华书店,再向北走 300 米到学校,再向东北走 500 米到少年宫,最后向东走 350 米到小鹏家。

(2) 谁家离小鹏家近? 近多少米?

【答案】 $200+600+500+350=1650$ (米)

$300+400+500+350=1550$ (米)

$1650>1550$ , 小娟家离小鹏家近, 近  $1650-1550=100$ (米)。

答: 小娟家离小鹏家近, 近 100 米。

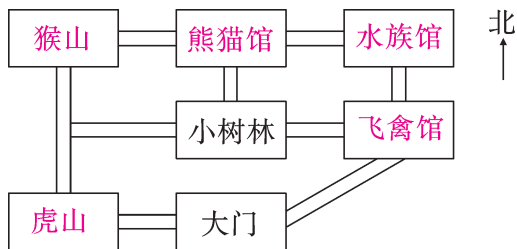
## 五、操作乐园。(共 27 分)

1.



小丽

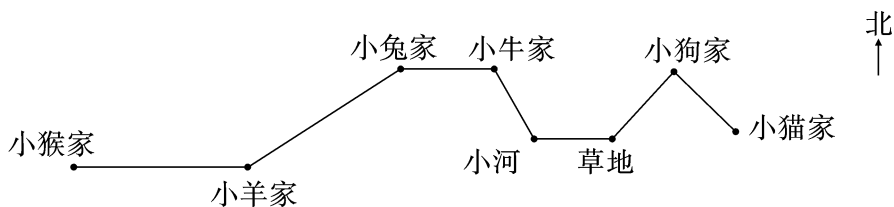
猴山在小树林的西北角, 水族馆在小树林的东北角, 熊猫馆在小树林的北面, 飞禽馆在小树林的东面, 虎山在小树林的西南角。



(1) 根据小丽的描述填空。(10 分)

(2) 小丽从大门进去, 想到小树林玩, 她可以向( 东北 )方向走, 再向( 西 )面走。(4 分)

2. (创新题) 下面是小狗回家的路线。(13 分)



我在小猴家, 我该怎么走才能回到家呢? 谁来帮帮我。

【答案】小狗从小猴家出发, 先向东走到小羊家, 再向东北方向走到小兔家, 再向东走到小牛家, 再向东南方向走到小河, 再向东走到草地, 最后向东北方向走回到家。